






數學：我會看價目表 日期：____年 ____月 ____日 姓名：_____

購買物品	金額
	
	
 <p>高麗菜·豬肉 台灣嚴選食材</p>	
	

購買物品	金額
 <p>麥克雞塊(6塊) 單點 \$59</p> <p>A 經典配餐 +\$40 中薯+\$33冷/熱飲</p>	<p>() + () = _____</p>
 <p>胡麻豬排堡 單點 \$59</p> <p>C 酷炫配餐 +\$65 冰炫風+\$33冷/熱飲</p>	<p>() + () = _____</p>
 <p>麥香魚 單點 \$49</p> <p>B 清爽配餐 +\$40 四單沙拉+\$33冷/熱飲</p>	<p>() + () = _____</p>
 <p>雙層牛肉吉事堡 單點 \$59</p> <p>D 勁脆配餐 +\$65 麥脆雞+\$33冷/熱飲</p>	<p>() + () = _____</p>
 <p>11 麥脆雞(2塊) 單點 \$98</p> <p>C 酷炫配餐 +\$65 冰炫風+\$33冷/熱飲</p>	<p>() + () = _____</p>