

# 數學

## 【計算機的生活運用】



班級： \_\_\_\_\_

姓名： \_\_\_\_\_


# 計算機加法 生活運用(一)



➤ 使用計算機來算出東西的**總數**

➤ 列式口訣：**數+數=共**

➤ 大家一起算算看(一)：

教室裡有 3 位男同學 ，7 位女同學 ，  
那教室裡共有幾位同學？

“共有”應該用選用哪一個？

請圈○出（加法、減法、乘法、除法）



列式為： ( )位  ( )位  ( )位

↑                    ↑                    ↑

數  數

★請依照列出來的算式順序，一一的按下你自己的計算機的按鍵，計算出班上同學有幾位；按鍵時，要一邊按、一邊看清楚有沒有按出你要的數字喔！

# 活動一：應用練習

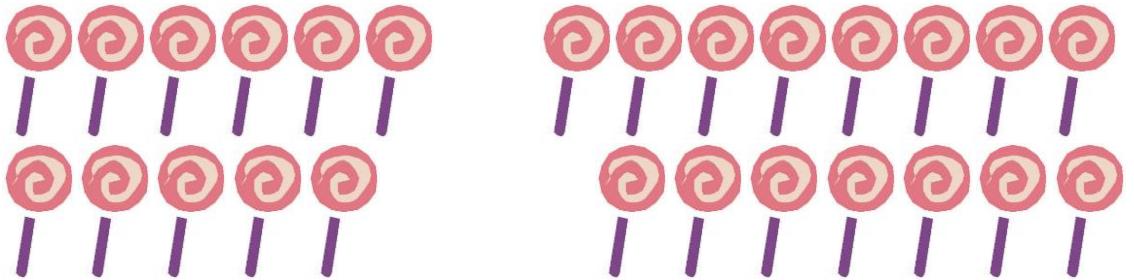


- (1) 我有月餅 3 顆，妹妹有月餅 5 顆，請問：總共有幾顆月餅？



$$\square \quad \square \quad \square = \square \quad \text{共} \quad \square \quad \text{顆}$$

- (2) 哥哥有 11 支棒棒糖，妹妹有 15 支棒棒糖，請問：總共有幾支棒棒糖？



$$\square \quad \square \quad \square = \square \quad \text{共} \quad \square \quad \text{支}$$

- (3) 冰箱裡，原本有 6 罐可樂，媽媽又買了 4 罐，請問：冰箱裡總共有幾罐可樂？



$$\square \quad \square \quad \square = \square \quad \text{共} \quad \square \quad \text{罐}$$

## 活動二：應用練習



- (1) 花園裡有藍色的花 14 朵，白色的花 17 朵，請問：  
總共有幾朵花？

$$\square + \square = \square \quad \text{共} \square \text{顆}$$

- (2) 我有 17 支鉛筆，媽媽又買 13 支鉛筆，請問：我  
總共有幾支鉛筆？

$$\square \quad \square \quad \square = \square \quad \text{共} \square \text{支}$$

- (3) 阿忠原有 23 張貼紙，老師又給 11 張貼紙，請問：  
阿忠總共有幾張貼紙？

$$\square \quad \square \quad \square = \square \quad \text{共} \square \text{張}$$

- (4) 媽媽買 14 顆蘋果，姊姊買 37 顆蘋果，請問：總  
共買了幾個蘋果？

$$\square \quad \square \quad \square = \square \quad \text{共} \square \text{顆}$$

- (5) 菜園裡，有 71 個紅蘿蔔，53 個白蘿蔔，請問：  
總共有幾個蘿蔔？

$$\square \quad \square \quad \square = \square \quad \text{共} \square \text{個}$$

- (6) 我有 11 支鉛筆，哥哥有 17 支原子筆，請問：我  
總共有幾支筆？

$$\square \quad \square \quad \square = \square \quad \text{共} \square \text{支}$$



## 活動一：應用練習



- (1) 買鉛筆一支 12 元，原子筆一支 30 元，請問：總共要花多少元？




12 元



30 元

$$12 + 30 =$$

- (2) 買蘋果一顆 26 元，草莓一個 23 元，請問：總共要花多少元？



26 元



23 元

$$26 + 23 =$$

- (3) 買牙膏一條 85 元，牙刷一支 79 元，請問：總共要花多少元？



85 元



79 元

$$85 + 79 =$$

## 活動二：應用練習



- (1) 買衣服一件 100 元，外套一件 250 元，請問：總共要花多少元？

$$\square + \square = \square \quad \text{共} \square \text{元}$$

- (2) 買餅乾一包 20 元，飲料一罐 25 元，請問：總共要花多少元？

$$\square + \square = \square \quad \text{共} \square \text{元}$$

- (3) 玩具汽車一台 200 元，籃球一顆 280 元，請問：總共要花多少元？

$$\square \quad \square \quad \square = \square \quad \text{共} \square \text{元}$$

- (4) 橡皮擦一個 25 元，鉛筆四支 111 元，請問：總共要多少錢？

$$\square \quad \square \quad \square = \square \quad \text{共} \square \text{元}$$

- (5) 書一本 430 元，筆記本兩本 54 元，請問：總共要多少錢？

$$\square \quad \square \quad \square = \square \quad \text{共} \square \text{元}$$

- (6) 手錶一隻 721 元，外套一件 1382 元，請問：總共要多少錢？

$$\square \quad \square \quad \square = \square \quad \text{共} \square \text{元}$$

# 計算機連續加法 生活運用



➤ 使用計算機來算出購物金額的**總價**

➤ 列式：**數+數+數=共**

➤ 大家一起算算看(二)：

老師去超市買餅乾一包 63 元  ,

飲料一罐 30 元  , 棒棒糖一支 12 元  ,

請問：老師總共花多少錢？

\* “總共” 應該用選用哪一個？

請圈○出( 加法、減法、乘法、除法 )



列式：

( )元  ( )元  ( )元  ( )元

↑                    ↑                    ↑                    ↑                    ↑

數                                        數                                        數

# 活動一：應用練習(連續加)



- (1) 鉛筆一支 12 元，原子筆一支 30 元，擦子一個 26 元請問：總共要花多少元？ 共( )元






12 元

30 元

26 元

$$\square + \square + \square = \square$$

- (2) 蘋果一顆 26 元，葡萄一串 84 元，草莓兩個 33 元，請問：總共要花多少元？ 共( )元



26 元

84 元

33 元

$$\square + \square + \square = \square$$

- (3) 蛋糕一塊 85 元，紅茶一杯 42 元，棒棒糖一支 18 元，請問：總共要花多少元？ 共( )元



85 元

42 元

18 元

$$\square + \square + \square = \square$$

## 活動二：應用練習

(1) 小鴨到超市買了好多東西，請小達鴨算一算他一共花了幾元？



巧克力	棒棒糖	果凍	冰淇淋	總計
70 元	20 元	40 元	100 元	元

◎算式：(      ) + (      ) + (      ) + (      ) =  
【                      】

(2) 小鴨到超市買了好多東西，請小達鴨算一算他一共花了幾元？

飲料	餅乾	蘋果	冰淇淋	總計
48 元	83 元	54 元	176 元	元

◎算式：(      ) □ (      ) □ (      ) □ (      ) =  
【                      】

(3) 小鴨到超市買了好多東西，請小達鴨算一算他一共花了幾元？

香蕉	草莓	飲料	蘋果	總計
72 元	213 元	54 元	336 元	元

◎算式：(      ) □ (      ) □ (      ) □ (      ) =  
【                      】

